

SULIT



LEMBAGA PEPERIKSAAN
KEMENTERIAN PENDIDIKAN MALAYSIA

SIJIL PELAJARAN MALAYSIA 2021

SEJARAH

Kertas 1

1 jam

1249/1

SPM 2021

JANGAN BUKA KERTAS PEPERIKSAAN INI SEHINGGA DIBERITAHU

1. *Kertas peperiksaan ini mengandungi 40 soalan.*
2. *Jawab semua soalan.*
3. *Bagi setiap soalan, pilih satu jawapan sahaja. Hitamkan jawapan anda pada kertas jawapan objektif yang disediakan.*
4. **Kertas jawapan objektif** hendaklah diserahkan kepada pengawas peperiksaan pada akhir peperiksaan.

Kertas peperiksaan ini mengandungi 13 halaman bercetak dan 3 halaman tidak bercetak.
(Nota penerbit: Bilangan halaman dalam buku ini telah diubah suai)

U ikat halaman sebelah

- 1 Dalam sistem politik Melayu tradisional, kuasa dan pengaruh seorang raja terhadap sesebuah wilayah ditentukan berdasarkan
- persamaan budaya
 - kesetiaan rakyat
 - kegiatan ekonomi
 - prinsip kepercayaan

- 2 Sumber pendapatan dan kewangan Kesultanan Melayu Melaka diperoleh daripada
- kegiatan perdagangan
 - pembayaran ufti
 - aktiviti pertanian
 - sistem serah
- I dan II
 - I dan IV
 - II dan III
 - III dan IV

- 3 Raden Adjeng Kartini telah menulis dua buah karya berikut.

- Hilang Gelap Terbitlah Terang
- Penulisan Seorang Puteri Jawa

Kedua-kedua karya tersebut menyentuh tentang

- kepesatan kegiatan ekonomi
 - penindasan terhadap rakyat
 - ancaman oleh kaum imigran
 - kelemahan sistem pentadbiran
- 4 Sistem pendidikan pada zaman penjajah telah membangkitkan semangat nasionalisme di Asia Tenggara. Mengapakah keadaan tersebut berlaku?
- Kemasukan kaum imigran tidak terkawal
 - Kemunculan ramai golongan intelek
 - Kewujudan golongan bangsawan
 - Kepelbagaian sukatan mata pelajaran
- 5 Mengapakah gerakan nasionalisme di China menentang pemerintahan Dinasti Manchu?
- Gagal menghalang kemasukan kuasa Barat
 - Rakyat dibebani cukai yang tinggi
 - Membenci golongan Mandarin
 - Fahaman komunis berkembang

- 6 Berikut adalah negara yang terlibat dalam Pakatan Bertiga semasa Perang Dunia Pertama.

- Britain
- Perancis
- X

Apakah X?

- Jerman
 - Austria
 - Hungary
 - Rusia
- 7 Bagi menangani kemelesetan ekonomi di Tanah Melayu, Jepun telah memperkenalkan
- Jawatankuasa Penyelidikan Bahan
 - Rancangan Pengeluaran Lima Tahun
 - Institut Latihan Pemimpin-pemimpin Muda
 - Rancangan Kemakmuran Bersama Asia Timur
- I dan II
 - I dan IV
 - II dan III
 - III dan IV
- 8 Jepun menyerang tanah jajahan kuasa Barat di Asia dalam Perang Dunia Kedua. Apakah tindakan kuasa Barat untuk menghalang kemaraan Jepun?
- Membentuk pertubuhan serantau
 - Mengisytiharkan ZOPFAN
 - Membebaskan tanah jajahan
 - Melakukan serangan bom atom
- 9 Apakah jasa tokoh berikut terhadap Sarawak?



Rosli Dhoby

- Menentang peluasan kuasa asing
- Memajukan pendidikan anak tempatan
- Mempertahan sistem pemerintahan beraja
- Menghalang perkembangan pengaruh komunis

10 Mengapakah negara kita menjadi tumpuan orang asing sejak abad ke-16 sehingga masa ini?

- I Penduduk padat
- II Lokasi strategik
- III Sumber asli pelbagai
- IV Tenaga buruh banyak
- A I dan II
- B I dan IV
- C II dan III
- D III dan IV

11 Persekutuan Tanah Melayu ditubuhkan pada tahun 1948.

Mengapakah orang Melayu **tidak** menentang penubuhannya?

- A Undang-undang tradisional tamat
- B Kuasa Raja-raja Melayu dikembalikan
- C Singapura dipisahkan daripada Persekutuan
- D Kaum imigran tidak diberikan taraf warganegara

12 Maklumat berikut berkaitan dengan perkembangan politik di Tanah Melayu sebelum merdeka.

Tahun	Peristiwa
1 Februari 1948	Persekutuan Tanah Melayu ditubuhkan

Apakah kesan peristiwa tersebut terhadap perjuangan orang Melayu?

- A Berkuasa mengawal pentadbiran
- B Parti-parti politik digabungkan
- C Syarat kerakyatan dipermudah
- D Diiktiraf sebagai penduduk asal

13 Bagaimanakah ideologi komunis disebarkan di Tanah Melayu?

- I Menyusup masuk dalam pertubuhan
- II Melalui hubungan antara kerajaan
- III Interaksi antara kumpulan pedagang
- IV Pembukaan cawangan Parti Kuomintang
- A I dan II
- B I dan IV
- C II dan III
- D III dan IV

14 Berikut adalah tindakan yang dilakukan oleh penganas komunis di Tanah Melayu.

- Merosakkan ladang getah
- Mengganggu kerja di lombong
- Merosakkan landasan kereta api

Mengapakah tindakan tersebut dilakukan?

- A Memiliknegarakan sektor perusahaan
- B Menyusun semula sistem pemilikan
- C Menentang amalan buruh paksa
- D Melumpuhkan ekonomi British

15 Maklumat berikut berkaitan dengan pertubuhan politik di Tanah Melayu.

Tahun	Pertubuhan
1938	Kesatuan Melayu Muda
1945	Parti Kebangsaan Melayu Malaya

Apakah persamaan matlamat perjuangan pertubuhan tersebut?

- A Konsep “Merdeka dengan Darah”
- B Merdeka melalui konsep Melayu Raya
- C Penubuhan sebuah parti politik pelbagai kaum
- D Mengutamakan slogan Malaya Untuk Melayu

16 Penduduk tempatan Tanah Melayu dilantik sebagai Ahli dalam Sistem Ahli pada tahun 1951.

Mengapakah pelantikan tersebut penting terhadap Tanah Melayu?

- A Pengekalan sistem pentadbiran tradisional
- B Persediaan ke arah berkerajaan sendiri
- C Pengukuhan kuasa politik bumiputera
- D Penjimatan perbelanjaan kerajaan

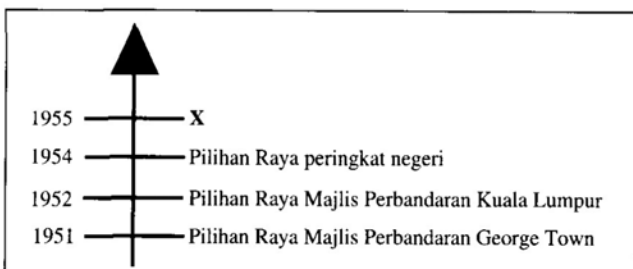
17 Maklumat berikut berkaitan dengan sumbangan Dato' Onn bin Jaafar.

Tahun	Sumbangan
1946	Menubuhkan <i>United Malay National Organization</i> (UMNO)
1951	Menubuhkan Parti Kemerdekaan Malaya (<i>IMP</i>)

Mengapakah Dato' Onn menubuhkan Parti Kemerdekaan Malaya sedangkan sebelum itu beliau telah menubuhkan UMNO?

- A Mengutamakan perpaduan antara kaum
- B Menerima desakan daripada penjajah British
- C Memastikan kemenangan dalam pilihan raya
- D Memantapkan pengurusan dalam Sistem Ahli

18 Rajah berikut berkaitan dengan perkembangan pilihan raya yang diadakan di negara kita sebelum merdeka.



Apakah X?

- A Pilihan Raya Majlis Perbandaran Melaka
- B Pilihan Raya Majlis Perundangan Sabah
- C Pilihan Raya Majlis Perbandaran Kuching
- D Pilihan Raya Majlis Perundangan Persekutuan

19 Raja-raja Melayu telah mengemukakan memorandum kepada Suruhanjaya Perlembagaan Persekutuan Tanah Melayu.

Cadangan yang manakah terkandung dalam memorandum tersebut?

- A Yang di-Pertuan Agong sebagai ketua negara
- B Ketua Menteri mengetuai pentadbiran kerajaan
- C Undang-undang tempatan dikuatkuasakan
- D Syarat kewarganegaraan dikaji semula

20 Sebagai rakyat dalam sebuah negara yang merdeka, kita mesti

- I meninggalkan norma-norma tradisional bangsa
- II meningkatkan usaha untuk kepentingan peribadi
- III bebas daripada pengaruh asing yang negatif
- IV berupaya menyumbang idea untuk bangsa

- A I dan II
- B I dan IV
- C II dan III
- D III dan IV

21 Apakah kepentingan konsep daulat dalam sistem politik Melayu tradisional?

- I Memperkukuh kedudukan raja-raja
- II Memperluas peranan golongan pembesar
- III Menyekat peluasan pengaruh kuasa asing
- IV Mengikat kesetiaan rakyat terhadap raja

- A I dan II
- B I dan IV
- C II dan III
- D III dan IV

22 Apakah bidang kuasa Yang di-Pertuan Agong?

- A Mengubah sempadan negeri
- B Mengetuai perkhidmatan awam
- C Melantik diplomat ke luar negara
- D Mengawal perbelanjaan kerajaan

23 Sejak merdeka, Malaysia telah mengamalkan sistem Demokrasi Berparlimen.

Pernyataan yang manakah berkaitan dengan sistem tersebut?

- A Majlis Raja-Raja menggubal perlembagaan
- B Monarki berkuasa mutlak mengetuai pentadbiran
- C Badan Kehakiman merangka undang-undang
- D Rakyat terlibat dalam pemerintahan negara

24 Senarai Negeri memperuntukkan kuasa Kerajaan Negeri.

Perkara yang manakah terletak dalam Senarai Negeri?

- A Tanah
- B Pelajaran
- C Kesihatan
- D Pertahanan

25 Persetujuan Bangkok dicapai pada tahun 1966 di Bangkok, Thailand.

Mengapakah persetujuan tersebut penting terhadap negara?

- A Pemulihan hubungan Malaysia-Indonesia
- B Pengukuhan hubungan Malaysia-Filipina
- C Penyertaan Brunei dalam Malaysia
- D Pembentukan Parti Perikatan Sarawak

26 Pada tahun 1962, referendum diadakan di Singapura.

Mengapakah referendum tersebut diadakan?

- A Menentukan sokongan terhadap pembentukan Malaysia
- B Mengukuhkan kesetiaan rakyat terhadap kerajaan
- C Mengekalkan sistem pentadbiran British
- D Menilai pengaruh parti berhaluan kiri

27 Apakah kesan peristiwa berikut?

Tahun	Peristiwa
1965	Peralihan kuasa kepimpinan di Indonesia

- A Perang Dingin merebak
- B Pakatan tentera dibentuk
- C Dasar konfrontasi berakhir
- D Sistem beraja dipulihkan

28 Singapura dan Sarawak menghadapi ancaman komunis pada tahun 1960-an.

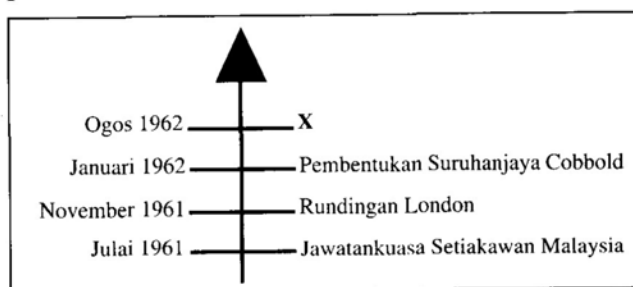
Bagaimanakah Tunku Abdul Rahman menyelesaikan ancaman tersebut?

- A Membentuk Persekutuan Malaysia
- B Menubuhkan Jawatankuasa Hubungan Antara Kaum
- C Mewujudkan kerjasama ketenteraan bersama Indonesia
- D Memperkukuh hubungan diplomatik dengan Filipina

29 Apakah faktor yang menjayakan kemerdekaan negara dan pembentukan Persekutuan Malaysia?

- I Desakan kumpulan radikal
 - II Pemimpin dan rakyat bermuafakat
 - III Semangat toleransi menjadi amalan
 - IV Penduduk terdiri daripada pelbagai kaum
- A I dan II
 - B I dan IV
 - C II dan III
 - D III dan IV

30 Rajah berikut berkaitan dengan proses pembentukan Persekutuan Malaysia.



X ialah pengumuman penubuhan

- A Majlis Perundangan Persekutuan
- B Jawatankuasa Antara Kerajaan
- C Jawatankuasa Eksekutif
- D Suruhanjaya Reid

31 Penyata Razak 1956 menyatakan dua elemen penting dalam pendidikan untuk membentuk perpaduan kaum.

Apakah kedua-dua elemen penting tersebut?

- I Kemahiran teknikal
 - II Kurikulum seragam
 - III Sistem persekolahan sama
 - IV Kenaikan darjah secara automatik
- A I dan II
 - B I dan IV
 - C II dan III
 - D III dan IV

32 Berdasarkan Kajian Aminuddin Baki, sistem persekolahan aneka jurusan telah diperkenalkan. Mengapakah sistem persekolahan tersebut diperkenalkan?

- A Melahirkan tenaga kerja mahir
- B Mengurangkan sekolah vernakular
- C Memendekkan tempoh persekolahan
- D Menempatkan murid kelainan upaya

33 Gambar berikut adalah logo Sukan Malaysia (SUKMA).



Apakah tujuan sukan tersebut diadakan?

- A Memantapkan ekonomi negara
- B Memperkukuh perpaduan rakyat
- C Memajukan industri pelancongan
- D Mengimbangi ekonomi antara kaum

34 Dasar Kebudayaan Kebangsaan digubal oleh kerajaan pada tahun 1971.

Apakah prinsip dasar tersebut?

- I Memperkukuh identiti kenegerian
 - II Mengutamakan elemen dari luar
 - III Berasaskan kebudayaan rakyat asal
 - IV Bertunjangkan ajaran Islam
- A I dan II C II dan III
B I dan IV D III dan IV

35 Lembaga Kemajuan Tanah Persekutuan (FELDA) telah ditubuhkan pada 1 Julai 1956 untuk melaksanakan pembukaan tanah baharu.

Apakah kesan pembukaan tanah tersebut?

- I Taraf hidup rakyat meningkat
 - II Sektor perladangan berkembang
 - III Bilangan usahawan bertambah
 - IV Harga komoditi meningkat
- A I dan II C II dan III
B I dan IV D III dan IV

36 Dasar Penswastan dilancarkan dalam Rancangan Malaysia Keempat.

Apakah matlamat dasar tersebut?

- I Mengimbangi pemilikan harta antara kaum
 - II Meningkatkan kualiti perkhidmatan
 - III Meningkatkan kemajuan ekonomi
 - IV Menggiatkan pembukaan tanah
- A I dan II C II dan III
B I dan IV D III dan IV

37 Mengapakah Tunku Abdul Rahman melaksanakan dasar probarat?

- A Konfrontasi Indonesia
- B Pergolakan di Vietnam
- C Gesaan Piagam Atlantik
- D Ancaman Parti Komunis Malaya

38 Berikut adalah negara anggota Persatuan Negara-negara Asia Tenggara (ASEAN) yang terawal.

- | |
|--|
| <ul style="list-style-type: none"> • Malaysia • Indonesia • Thailand • Filipina • Singapura |
|--|

Apakah sumbangan ASEAN terhadap negara-negara anggota?

- I Meningkatkan hubungan sosial
 - II Menyediakan bantuan ketenteraan
 - III Menyeragamkan sistem pentadbiran
 - IV Menumpukan pembangunan ekonomi
- A I dan II
B I dan IV
C II dan III
D III dan IV

39 Apakah faktor yang mempengaruhi penggubalan dasar luar Malaysia?

- A Pendirian pertubuhan serantau
- B Kepentingan ekonomi negara
- C Kehendak kuasa besar
- D Keperluan ketenteraan

40 Afrika Selatan mengamalkan Dasar Aparteid. Mengapakah Malaysia menentang dasar tersebut?

- A Hubungan dagang terhad
- B Dasar komunis diamalkan
- C Kebebasan beragama disekat
- D Diskriminasi kaum dilaksanakan

SULIT

NO. KAD PENGENALAN

--	--	--	--	--	--	--	--	--	--

ANGKA GILIRAN

--	--	--	--	--	--	--	--



**LEMBAGA PEPERIKSAAN
KEMENTERIAN PENDIDIKAN MALAYSIA**

SPM 2021

SIJIL PELAJARAN MALAYSIA 2021

SEJARAH

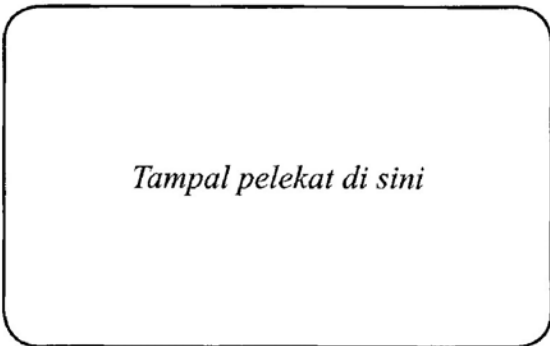
1249/2

Kertas 2

2 jam 30 minit

JANGAN BUKA KERTAS PEPERIKSAAN INI SEHINGGA DIBERITAHU

1. *Tulis nombor kad pengenalan dan angka giliran anda pada petak yang disediakan.*
2. *Kertas peperiksaan ini mengandungi dua bahagian: **Bahagian A** dan **Bahagian B**.*
3. *Jawapan hendaklah ditulis pada ruang jawapan yang disediakan di dalam kertas peperiksaan ini.*
4. ***Kertas peperiksaan** ini hendaklah diserahkan kepada pengawas peperiksaan pada akhir peperiksaan.*



Kertas peperiksaan ini mengandungi 23 halaman bercetak dan 1 halaman tidak bercetak.
(Nota penerbit: Bilangan halaman dalam buku ini telah diubah suai)

⏪ Lihat halaman sebelah

Bahagian A
[40 markah]
Jawab semua soalan.

1 Negara bangsa merujuk kepada negara berdaulat yang didiami oleh satu bangsa.

Sumber: prpm.dbp.gov.my Kamus Bahasa Melayu

(a) Nyatakan **dua** ciri negara bangsa di Alam Melayu sebelum kedatangan Barat.

(i)

(ii)

[2 markah]

(b) Jelaskan **kedua-dua** ciri negara bangsa dalam 1(a).

(i)
.....
.....
.....

(ii)
.....
.....
.....

[4 markah]

(c) Bagaimanakah cara untuk menjadikan negara dan bangsa kita lebih cemerlang?

.....
.....
.....
.....
.....
.....
.....

[4 markah]

2 Penyata Jawatankuasa Pelajaran 1956 telah mengemukakan teras pembentukan sistem pendidikan kebangsaan.

(a) Nyatakan **tiga** teras pembentukan sistem pendidikan kebangsaan tersebut.

(i)

(ii)

(iii)

[3 markah]

(b) Senaraikan **tiga** cadangan yang dikemukakan oleh jawatankuasa tersebut.

(i)

(ii)

(iii)

[3 markah]

(c) Jelaskan kepentingan cadangan dalam 2(b) terhadap negara kita.

.....

.....

.....

.....

.....

.....

.....

[4 markah]

3 Institusi Raja-Raja Melayu ialah institusi tertua dan sedia wujud dalam sistem sosial di negeri Melayu.
Sumber: bharian.com.my 9 Mac 2020

(a) Jelaskan secara ringkas sistem pemerintahan beraja pada zaman Kesultanan Melayu Melaka.

.....
.....
.....
.....
.....

[3 markah]

(b) Bagaimanakah situasi sistem pemerintahan beraja di negeri-negeri Melayu pada zaman British?

.....
.....
.....
.....
.....

[3 markah]

(c) Berikut adalah prinsip kedua Rukun Negara kita.

Kesetiaan Kepada Raja dan Negara

Pada pandangan anda, mengapakah perkara tersebut dijadikan prinsip Rukun Negara?

.....
.....
.....
.....
.....
.....
.....

[4 markah]

4 Peta berikut menunjukkan wilayah dalam Persekutuan Malaysia yang dibentuk pada tahun 1963.



SPM 2021

(a) Nyatakan wilayah yang membentuk Persekutuan tersebut.

- (i)
- (ii)
- (iii)

[3 markah]

(b) Bagaimanakah reaksi Brunei terhadap pembentukan Persekutuan Malaysia?

.....
.....
.....
.....
.....

[3 markah]

(c) "Pembentukan Malaysia bawa nikmat kepada negara".

Sumber: bharian.com.my 16 September 2020

Buktikan kebenaran pernyataan tersebut.

.....
.....
.....
.....
.....
.....
.....

[4 markah]

Bahagian B

[60 markah]

Jawab tiga soalan sahaja.

Tulis jawapan anda pada ruang yang disediakan di **halaman 15 hingga halaman 18**.

- 5** Pentadbiran Tentera British (British Military Administration atau BMA) dilaksanakan antara akhir Perang Dunia Kedua dengan Penubuhan Malayan Union.

Sumber: www.malaysia.gov.my

- (a) Mengapakah British melaksanakan BMA di Tanah Melayu? [4 markah]
- (b) BMA telah digantikan dengan Malayan Union.
(i) Mengapakah orang Melayu menentang Malayan Union? [4 markah]
(ii) Bagaimanakah penentangan terhadap Malayan Union dilakukan? [4 markah]
- (c) Huraikan pengajaran atau iktibar yang berkaitan dengan peristiwa di **5(a)** dan **5(b)**. [8 markah]
- 6** Sejarah keganasan komunis ibarat parut luka besar dalam sejarah Malaysia.

Sumber ubahsuai: sinarharian.com.my 3 Disember 2019

- (a) Mengapakah sejarah keganasan komunis diibaratkan seperti dalam pernyataan di atas?
Gunakan pengetahuan sejarah anda. [4 markah]
- (b) Bagaimanakah kerajaan mengatasi ancaman komunis semasa zaman darurat? [8 markah]
- (c) Pada pendapat anda, mengapakah Parti Komunis Malaya (PKM) bersungguh-sungguh untuk menguasai Tanah Melayu dan British pula bersungguh-sungguh mempertahankan Tanah Melayu daripada dikuasai oleh PKM? [8 markah]

- 7 (a) Apakah yang anda faham dengan konsep kedaulatan?
- (b) Jelaskan ciri-ciri negara yang berdaulat.
- (c) Teliti poster berikut.

[4 markah]
[8 markah]



SPM 2021

Sumber: www.penerangan.gov.my

Huraikan mesej yang terkandung dalam poster tersebut.

[8 markah]

- 8 (a) Jelaskan latar belakang pembentukan Dasar Ekonomi Baru (DEB). [3 markah]
- (b) Huraikan langkah kerajaan untuk mencapai matlamat DEB sehingga tahun 1990. [9 markah]
- (c) Baca maklumat dalam petikan berikut.

KUALA LUMPUR: Isu ketidakseimbangan pembangunan negeri dan wilayah serta kawasan bandar dengan pedalaman, antara perkara utama dalam perhatian kerajaan untuk ditangani bagi mewujudkan kemakmuran bersama dalam kalangan rakyat.

Kedah, Perlis, Kelantan, Sabah dan Sarawak yang dikategorikan negeri miskin, jauh ketinggalan berbanding pembangunan di Kuala Lumpur, Putrajaya, Selangor, Johor dan Pulau Pinang.

Begitu juga dengan jurang pendapatan golongan kaya dengan miskin serta di bandar dan di luar bandar yang semakin melebar walaupun isi rumah berada dalam kedudukan lebih baik.

Unjuran pendapatan antara kaum juga dilihat semakin melebar dengan jumlah pendapatan Bumiputera adalah 3.5 kali ganda lebih rendah berbanding kaum Cina.

Sumber: <https://www.bharian.com.my/berita/nasional/2019/09>

Jelaskan maklumat yang terkandung dalam petikan tersebut dan kesan terhadap negara sekiranya tidak diatasi. [8 markah]

- 9 Hubungan luar di negara ini bermula sejak zaman kerajaan Melayu lagi dan semakin jelas ketika zaman Kesultanan Melayu Melaka.
- (a) Jelaskan hubungan luar pada zaman Kesultanan Melayu Melaka. [3 markah]
- (b) Huraikan faktor penggubalan dasar luar negara Malaysia. [9 markah]
- (c) Mutakhir ini tersebar berita di mana kapal-kapal perang China dan Amerika sedang berlegar di Laut China Selatan sehingga dikatakan mengganggu kerja penggalan minyak oleh Petronas.

Sumber: <https://ismaweb.net/2020/04/24>

Jika anda sebagai pemimpin negara, bagaimanakah cara untuk menangani situasi di atas?

Beri penjelasan anda.

[8 markah]

A series of horizontal dotted lines for writing, spanning the width of the page.

